




Quantas casas existem com tetos como estes  ?

Quantas casas existem com tetos como estes  ?

Quantas janelas existem nas primeiras casas? Quantas nas últimas?



Não esqueça de agrupar os oito.

	grandes grupos	pequenos grupos	sozinhas
casas como 			
casas como 			
janelas (nas primeiras)			
janelas (últimas)			
janelas ao todo			