



Sugestões de Exercícios


Vamos empacotar!

Quantidade de objetos	Em cada pacote	Quantidade de pacotes
24 objetos	6 objetos
30 objetos	5 pacotes
.....	9 objetos

Inventa uma história matemática com ao todo

Um prédio de 3 andares tem 4 apartamentos por andar.
 Um prédio de 4 andares tem 3 apartamentos por andar.
 Qual deles tem maior número de apartamentos?
 (Dica:)

Fazer grupos:



... grupo de ...



... grupos de 2



... grupo de 10
restando ...



Continued

5730
↓
900

↓
1000

↓
1000

↓

↓
1000

↓

↓
1000

↓

↓
1000

↓

↓
1000

↓

↓
1000

↓

Continued

Continued

Continued

Continued

Continued

Continued

Continued

Continued

Continued

Completa as tabelas:

	Centenas	Dezenas	Unidades	Numeral
$900 + 20 + 9$	9	2	9	929
$50 + 4$				
$600 + 6$				

Numeral	+ 100	+ 10	+ 4
888			
345			
100			
422			

Descobre o resultado, juntando sempre nove:

9	6	7	4	5	9	19	28	35	42	50
---	---	---	---	---	---	----	----	----	----	----

Descobre o resultado, retirando sete:

7	9	13	10	27	35	53	23	48	50
---	---	----	----	----	----	----	----	----	----

Descobre o termo que falta.


\square	\square	\square	\square	\square	30	20
+ 101	+ 104	- 14	- 19	+ \square	- \square	
103	10	56	43	45	45	

Escreve o numeral correspondente :

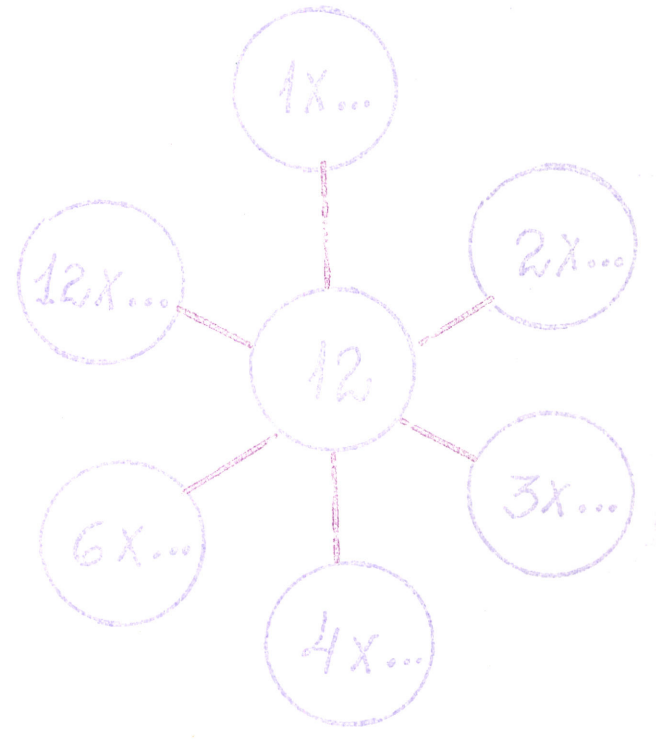
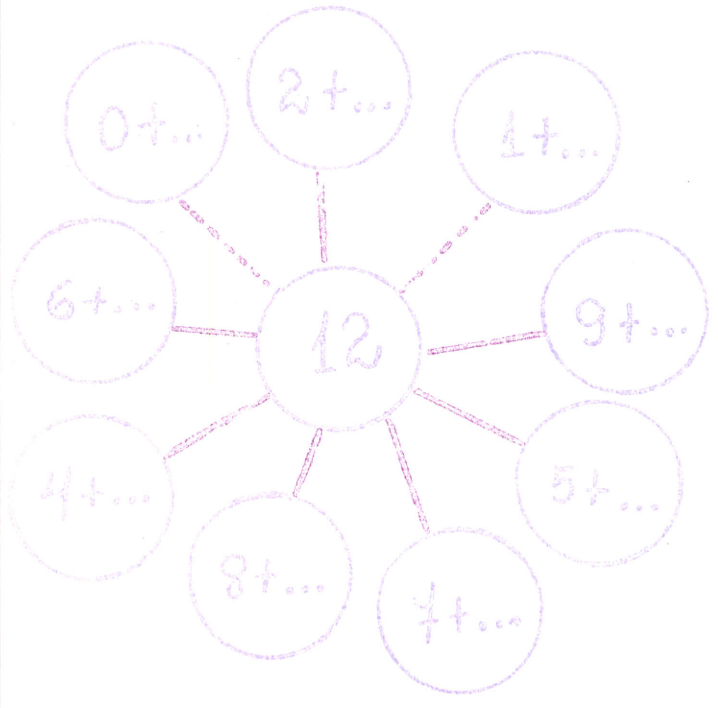


Desenha os materiais:

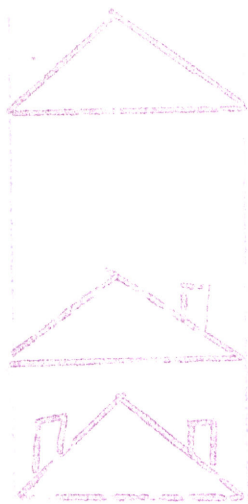
124 ->



Completa:



Multiplicação



① Produto Cartesiano

② Repetição de conjuntos



A 4ª feira diei
 tem como resultado...

4x4	16
3x5	15
4x0	0
9x5	45
2x1	2

... tem o mesmo resultado que...


4x3	12
9x1	9
3x3	9
2x2	4
2x1	2

3+3
 3+3+3
 3+3+3
 2
 6+6

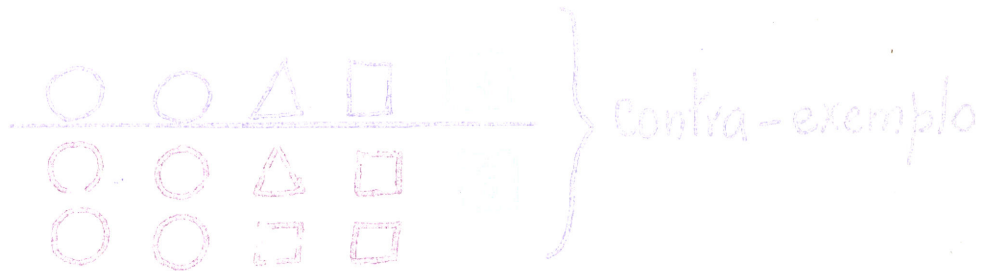
Completa:

- 1 caixa 6 ovos
- 2 caixas 12 ovos
- 3 caixas _____
- 4 caixas _____
- 5 caixas _____
- 6 caixas _____
- 7 caixas _____
- 8 caixas _____
- 9 caixas _____
- 10 caixas _____

Qual é o dobro?



Achei o dobro?



Formar grupos com o mesmo nº de objetos colocando em linhas e colunas:



Indica na Tabela os resultados, usando os símbolos (sinais)


 3x5

 4x4

 2x6

 4x8

 5x6

 4x9

 5x9

 2x9

 2x7

 4x6

 5x7

 3x6

 3x9

 3x8

 5x8

 4x7

 5x4

 2x8

12	40	16	6	24	28	5	45
18	40	50	72	32	31	16	65
60	15	59	18	68	14	90	35
31	13	20	37	40	24	84	26
30	79	11	24	63	36	51	36