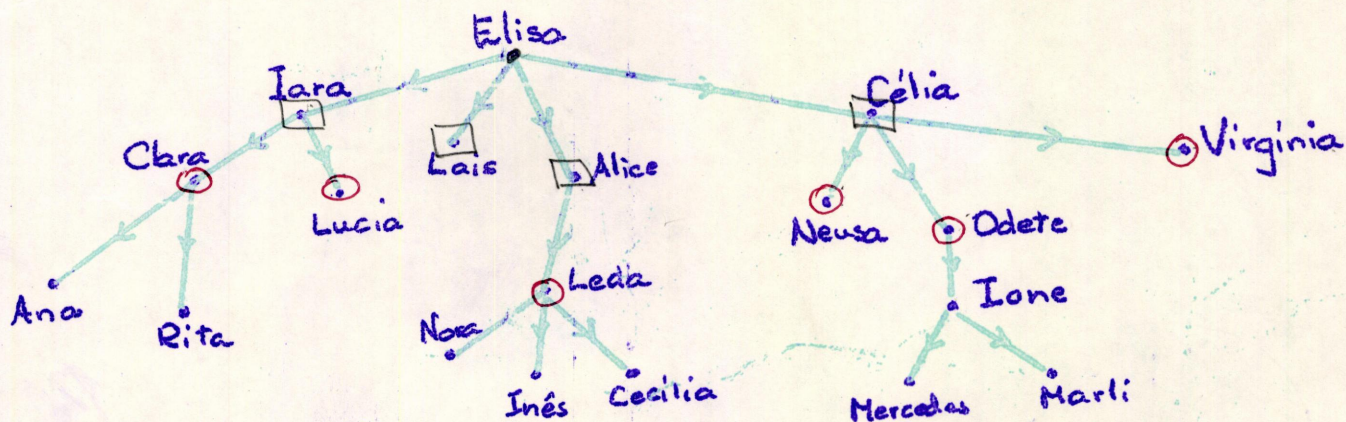


Gertrudes

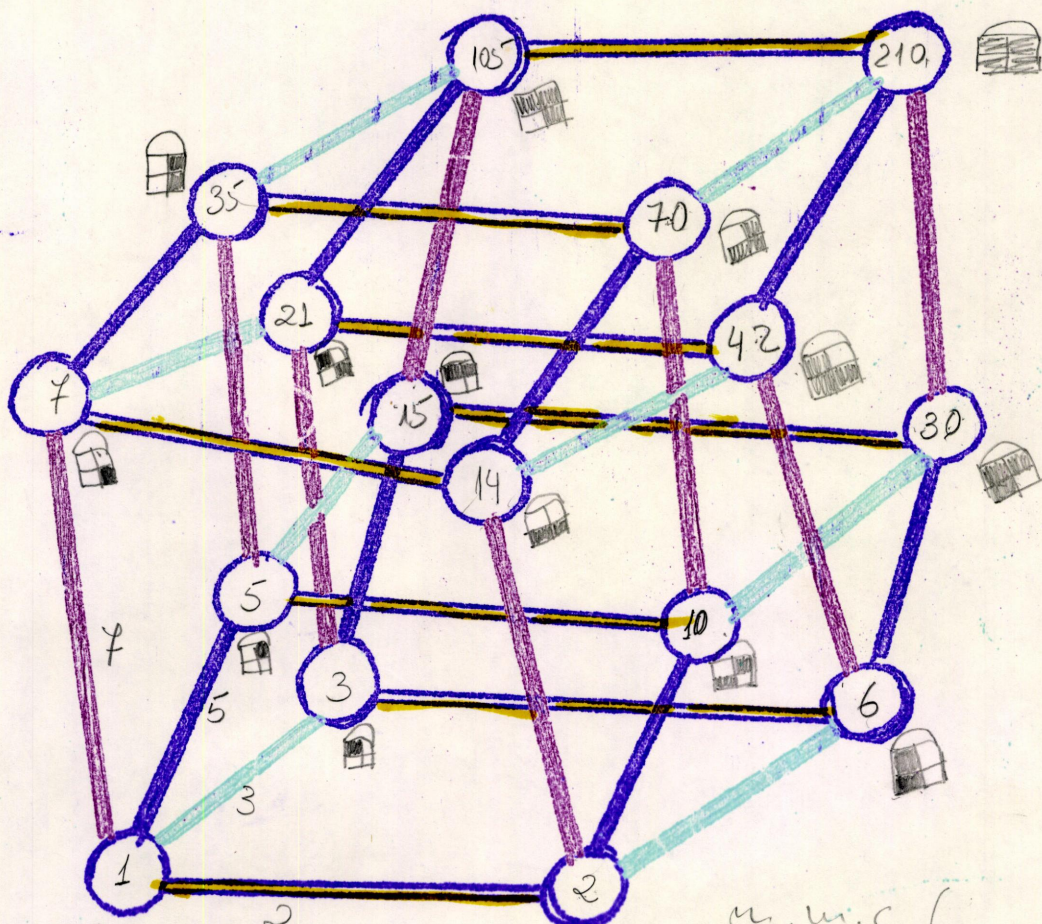
Instituto de Educação General Flores da Cunha Esc. Est. de 1º e 2º graus
Equipe de Matemática de 4ª a 8ª série

① Eis o seguinte esquema de relações : ... é mãe de...



A partir de esquema responde:

- Quem são as netas de Elisa? Clara, Lucía, Leda, Neusa, Odete, Virginia
- É verdade que Neusa é tia de Ione? Sim.
- Qual o parentesco entre Lucía e Odete? primas
- Clara e Lucía? irmãs
- Virginia e Elisa? neta e avó.



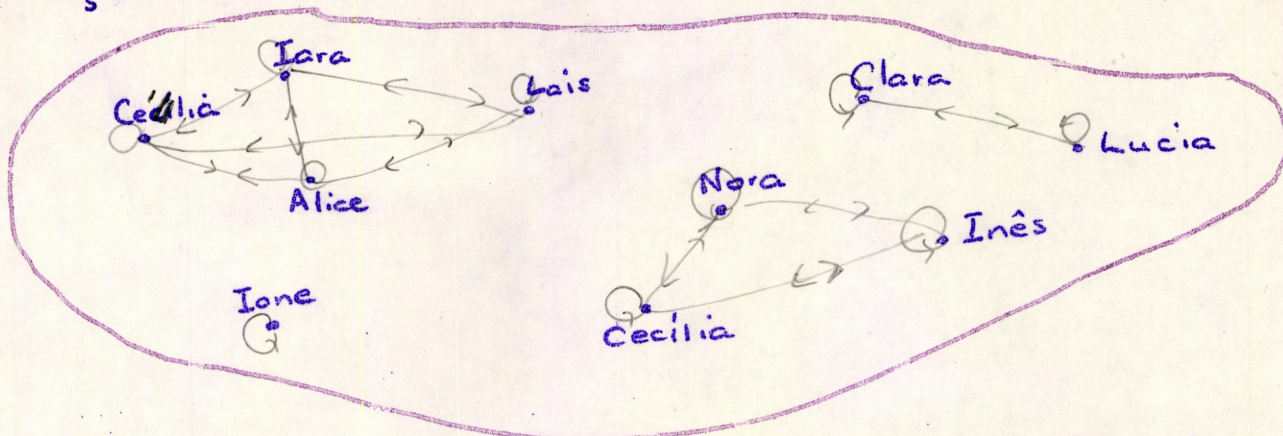
$m.m.c(70, 35, 14) = 70$

$m.m.c(15, 6, 42) = 210$

m.m.c (

$m.m.c(70, 42, 30, 105) = 210$

② De acordo com o quadro do exercício ①, Trace as flechas da relação, baseada na lei: ... é irmã de ...



Esta relação é simétrica? Sim anti-simétrica? nao
transitiva? Sim reflexiva? Sim

③ Lê com atenção as informações abaixo e com elas constrói um esquema que represente as relações baseadas na lei: ... é pai de ...

João é pai de Paulo.

Marcos é filho de Paulo.

Francisco é avô de Paulo.

Luiz tem três filhos. Ele tem o direito de chamar Marcos de tio (Escolhe nomes para os filhos de Luiz)

André é primo de Paulo.

O irmão de Paulo se chama Bernardo

João tem um irmão que não tem filho, seu nome é Felipe

Um dos três filhos de Francisco se chama Ivo

