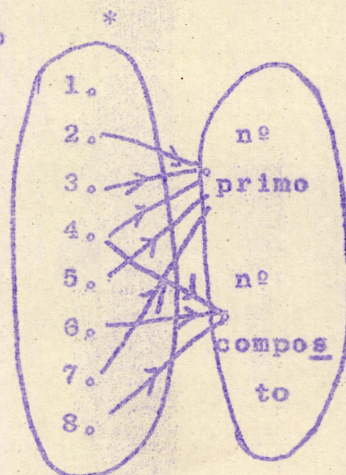
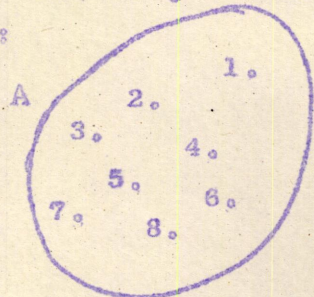


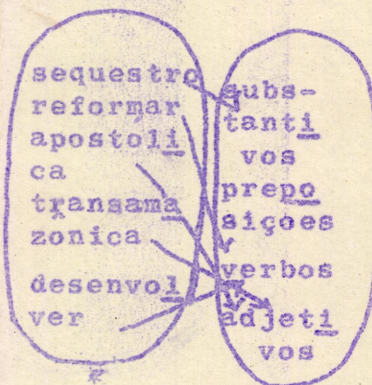
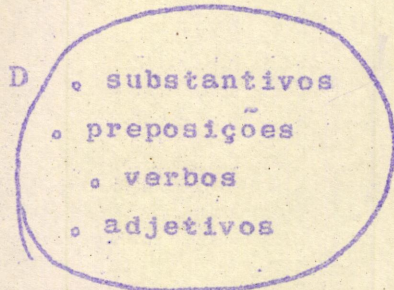
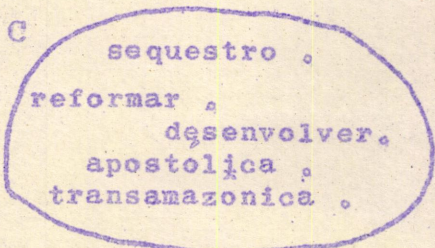
Atividades didáticas sobre Relações

Cobre a coluna da direita e só a examina após realizares cada atividade para imediata correção.

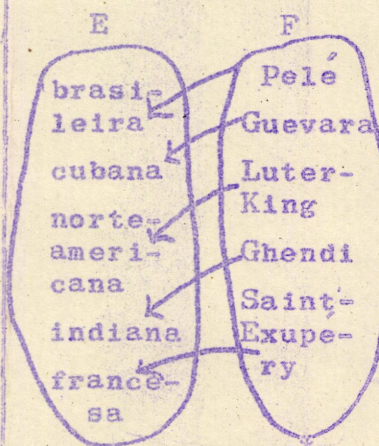


1. Traça as flechas da relação indicada abaixo:



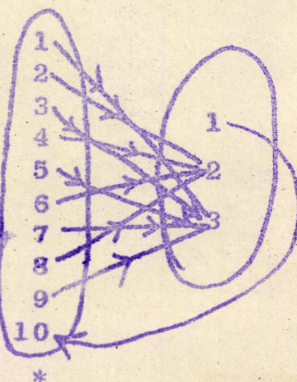
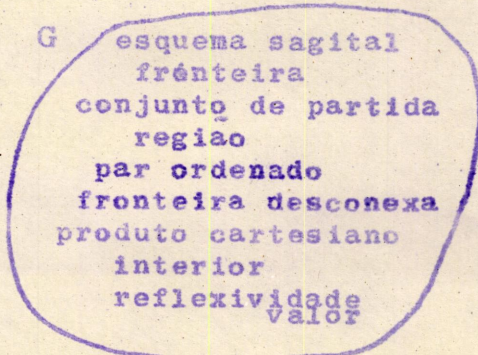
2. Faz o esquema sagital da relação baseada na lei pertence à classe dos aplicada aos conjuntos C e D.



3. Determina os elementos do conjunto E para que de acordo com a lei é de nacionalidade... todos os elementos de F tenham correspondente em E.

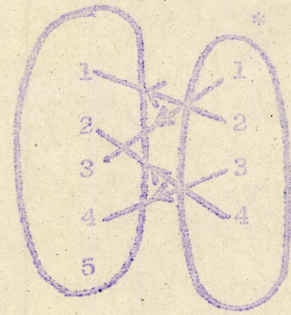


4. Completa o esquema da relação baseada na lei... é noção abordada na unidade de....



5. Faça as flechas

ave	vaca
lobo	bando
porco	multidão
pessoa	alcateia
avião	



.... é substantivo coletivo de

6. Descubra a lei da relação representada no esquema sagital que segue

* Paquistão	europ <u>e</u> u
Burândi	asiát <u>i</u> co
Canadá	afri <u>c</u> ano
Andorra	ameri <u>c</u> ano
Taiti	
Argélia	
Uganda	

... é país que faz parte do continente...

7. Assinala X no encontro das bandas que correspondem a relação baseada na lei e ... aplicada aos dois conjuntos.

* Cáspio	Aconçaga	Óguba	Ontário	Buna	Titi	Bana-	
			rio		caca	nal	
							ilha
							lago
							mar
							vulcão

{ (1,3) (2,4),
(3,2), (4,1),
(5,4) (6,2),
(7,1) }

8. Seja R uma relação

R = (México, espanhol), (Luxemburgo, francês),
(Irlanda, inglês), (Austria, alemão)

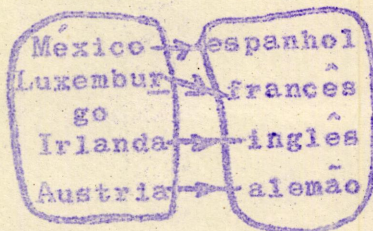
Em R, os conjuntos de partida e de chegada são

distintos
coincidentes

Transforma esta representação por chaves, num esquema sagital e descobre a lei.

distintos

... é país onde se fala



9. Completa a coluna da esquerda e a fila horizontal com palavras adequadas

						X	
lira							X
			X				
pezeta					X		
marco			X				
libra	X						
		uru- guaia		norte ame- ricana	espa- nhola	brasi- leira	

cruzeiro

dolar

inglesa alemã

italiana

Qual é a lei desta relação?

Determina, por extensão, os conjuntos de partida e de chegada e os representa por chaves.

.... é moeda....

*P = {cruzeiro, lira, peseta, marco, dolar, libra }

C = {inglesa, uru-
guaia, alemã,
norte-americana,
espanhola, brasi-
leira, italiana }

10. Assinala nas 10 relações precedentes o conjunto de partida, com um asterisco.