

Organiza uma estêria matemática
para a operação:

$$\begin{array}{r} 42 \\ b.5 \\ \hline = 23 \end{array}$$

As bandeirantes estão vendendo bolc-chas.

Cada caixa custa ~~cr\$~~ 5,00 (cinco cruzeiros).

Marta já vendeu 8 caixas.

Sandra vendeu 2 caixas a menos que Marta.

Tereza vendeu 4 a mais do que Sandra.

Quantas caixas venderam as três juntas?

Quanto de dinheiro cada uma recebeu?

1) A filha do prefeito de uma cidadezinha vai se casar. A mãe da noiva tem receio de não poder convidar todos os amigos de sua filha.

"Eu tenho 4 mesas grandes e 3 pequenas", pensa a mãe. "Em cada mesa pequena poderão sentar-se 9 convidados e em cada mesa grande poderão sentar-se o dobro. Além disso eu vou montar com tábuas uma mesa comprida para 16 pessoas".

Quantas pessoas a noiva poderá convidar.

2) Ganhei uma caixa de bombons. Uns são de frutas, outros têm licor e outros são de creme.

Eu e meus irmãos comemos 8 dos 35 bombons da caixa. Quantos sobraram?

Eu sei que sobrou a mesma quantidade de cada tipo.

Quantos bombons de frutas ainda tem?

3) Um menino tinha um saquinho com bolitas. Ele encontrou 3 caixinhas com 3 repartições cada uma. Colocou 3 bolitas em cada repartição mas uma das repartições ficou vazia.

Quantas bolitas ele tinha ?

4) Assinala a resposta certa.

Quantos dias tem o mês de agosto ?

28 30 31

Quantos dias tem uma semana ?

10 7 5

Quantas semanas completas tem o mês de agosto ?

4 3 5

Quantos dias sobraram ?



2 1 3

	Semanas completas	Dias que sobram
Agosto		
Fevereiro		
Setembro		

5) Numa família da vila Mapa, uma menina do 2º ano que está aprendendo a escrever os números disse:

Quando minha mãe ganhar mais um filho haverá 1100 pessoas em nossa casa na base 2.

Desenha quantos irmãos tem a menina agora.




Você possui três blusas e duas saias, então você pode formar trajes diferentes

Blusas

Saias

Trajes

Quantas merendas?



Líquidos

Sólidos

Merendas

Quantos jogos?

- Grêmio
- Internacional

- Corinthians
- São Paulo
- Santos
- Botafogo
- Vasco
- Fluminense
- Flamengo