

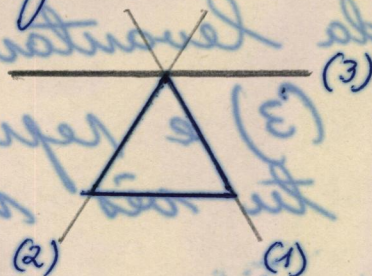
Ficha 46

(4)

Para estes exercícios tu não levarás em consideração a cor das placas.

(deixar 1 linha)

1. a) Toma um triângulo de 0 furos.



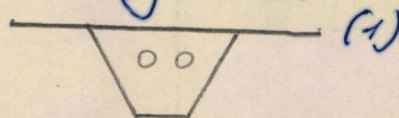
b) Coloca teu espelho na posição (1) e reproduz atrás do espelho o que tu vês no espelho.

c) Sem (tirar) nada levantar, coloca teu espelho na posição (2) e reproduz atrás do espelho o que tu vês no espelho.

d) Sem nada mudar, coloca teu espelho na posição (3) e reproduz atrás do espelho o que tu vês no espelho.

(deixar 1 linha)

2. a) Toma um chapéu de 2 furos.


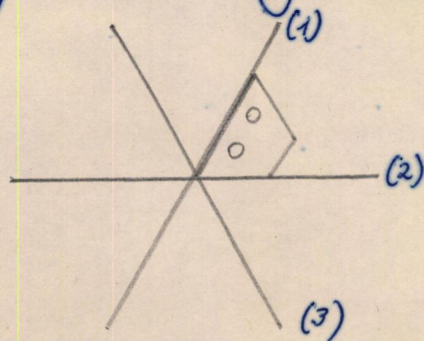


b) Coloca teu espelho na posição (1) e reproduz atrás do espelho o que tu vês no espelho.

c) Sem nada levantar, coloca teu espelho na posição (2) e reproduz atrás do espelho o que tu vês no espelho.

(deixar 1 linha)

3. a) Toma um chapéu de 2 furos



b) Coloca teu espelho na posição (1) e reproduz atrás do espelho o que tu vês no espelho.

c) Sem nada levantar, coloca teu espelho na posição (2) e reproduz atrás do espelho o que tu vês no espelho.

d) Sem nada levantar, coloca teu espelho na posição (3) e reproduz atrás do espelho o que tu vês no espelho.

2. a) Toma um chapéu de 2 furos (1)

b) Coloca teu espelho na posição (1) e reproduz atrás do espelho o que tu vês no espelho.

c) Sem nada levantar, coloca teu espelho na posição (2) e reproduz atrás do espelho o que tu vês no espelho.

d) Sem nada mudar, coloca teu espelho na posição (3) e reproduz atrás do espelho o que tu vês no espelho.

(deixar 1 linha)

3. a) Toma um chapéu de 2 furos (1)

b) Coloca teu espelho na posição (1) e reproduz atrás do espelho o que tu vês no espelho.

c) Sem nada levantar, coloca teu espelho na posição (2) e reproduz atrás do espelho o que tu vês no espelho.

(deixar 1 linha)

