


CONFIDENTIAL

1. Rio de Janeiro




... de ...
 ...
 ...

...
 ...



...
 ...

...
 ...



...
 ...

...
 ...

...
 ...

...
 ...



..... é mais moço que

5- Completa o esquema cartesiano da relação baseada na lei:
 ... da o mesmo resto na divisão por que ... aplicada ao conjunto =
 $\{5, 6, 7, 8, 9, 10, 11, 12\}$.

	5	6	7	8	9	10	11	12
5								
6								
7								
8								
9								
10								
11								

6- Completa o esquema cartesiano a seguir:

	Brasil	Argentina	Chilê	Perú	Colômbia
Brasil					
Argentina					
Chile					
Peru					
Colômbia					


..... limita com

7- Eis o conjunto dos tipos de sangue:




Estabelece a relação baseada na lei : é tipo de sangue que pode ser dada a

8- No conjunto de nomes representado no diagrama que segue, faz as flechas da relação de acordo com a lei
..... tema a inicial do sobrenome igual a do prenome de



9- Traça as flechas da relação indicada abaixo:



... está mais próximo do sol que ...

.....